

الأب أو الولي	الإدارة	الملاحظة
		20

الاسم:
 التاريخ: 2010-12-30
 الفوج:
 المستوى: الخامسة ابتدائي B

1- أضع وأنجز

16 579 – (34, 05+ 678)
 985 x 842
 57 952 : 41

3

– 2

- أ (أكتب جميع قوسم العددين 42 و 24 .
 ب (ماهو القاسم المشترك الأصغر للعددين 42 و 24 .
 ج (ضع مكان النقط الرقم المناسب كي يصبح العدد .3 7 2 قابل للقسمة على 2, 3, 5, 9, في أن واحد .

2

3- أتمم مايلي

78,4 Km + 2 m = dm
 37 dam – 270 m = dm

3

4- أ) حول الى الثواني

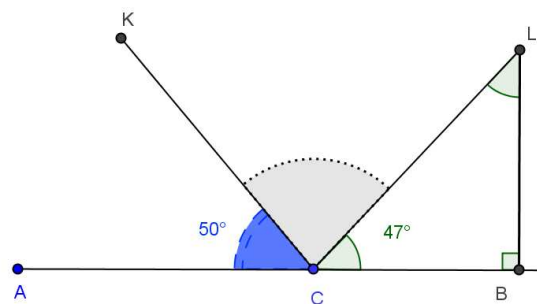
9 min = s
 2 h 3 min 4 s = s

ب (حول الى الساعات والدقائق

1j 17 h 185 min =h.....min

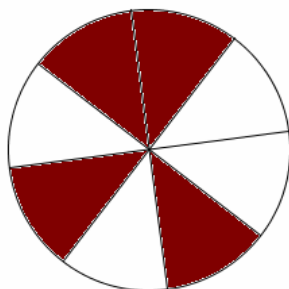
2

5- أ حسب قياس الزاويتين CLB و KCL (دون استعمال المنقلة)

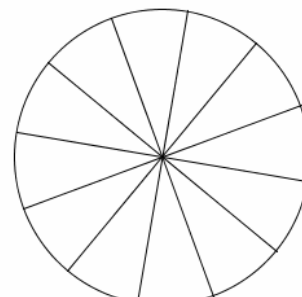


2

6 - لون الجزء الذي يمثل العدد الكسري المناسب



6 - لون الجزء الذي يمثل العدد الكسري



2

$\frac{5}{12}$

7- أنشئ ABCD متوازي أضلاع حيث $AB = 4\text{cm}$ و $AC = 5\text{cm}$

$$[ABC] = 90^\circ$$

3

8 - لصنع زربية اشترت سيدة 8,25 Kg من الصوف البيضاء و 7,75 Kg من الصوف الصفراء و 4,5 Kg من الخيط ما هي كتلة الزربية إذا علمت أنه بقي للسيدة 1,50 Kg من الصوف البيضاء و 0,50 Kg من الخيط ؟

3