

الأب أو الولي	الإدارة	الملاحظة
		20

الاسم:
التاريخ:
الفوج:
المستوى: السادس ابتدائي
الفوج A

1- ضع و أنجز :

$$(734,9 + 5802,34) - (2008 + 574,67)$$

$$3,57 \times 4,7$$

2- احسب خارج القسمة التالية المقرب إلى 0,1

$$2345 \div 76$$

3- رتب الأعداد التالية ترتيبا تناقصيا

$$7,04 ; 7,0004 ; 7,4 ; 7,044 ; 7,0044.$$

4- حول

$$3\text{km } 17\text{dam } 5\text{m} = \dots\dots\dots\text{dam}$$

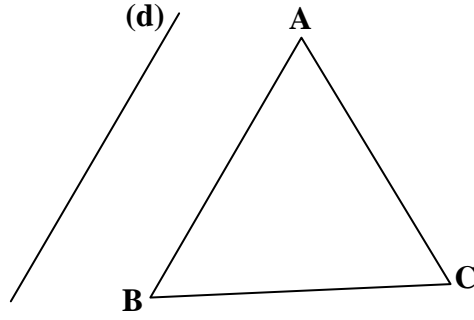
$$35,428\text{km} = \dots\dots\dots\text{m}$$

- أحسب المجموع التالي

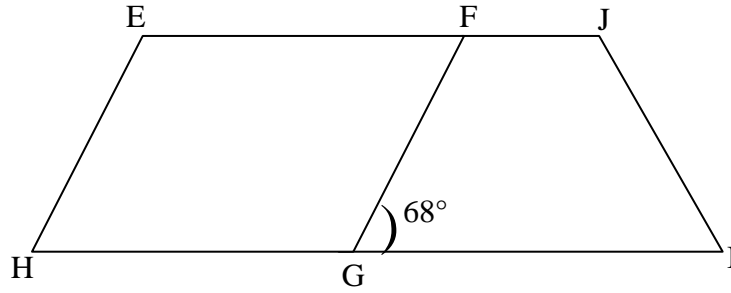
$$46\text{km} + 3645,9\text{m} + 7\text{dam} = \dots\dots\dots\text{km}$$

5- ضع مكان النقط الرقم المناسب . 6.53 قابلا للقسمة على 2، 3، 5 و 9 في آن واحد

6- أنشئ مماثل للشكل بالنسبة للمستقيم (d).



7- لاحظ الشكل، ثم أحسب قياسات الزوايا التالية : $\widehat{HGE} - \widehat{EFG} - \widehat{JIG}$:



8- يستخدم خياط 2,20m من الثوب لخياطة بذلة واحدة. كم بذلة من نفس القياس يمكن أن يخطها باستخدام لفة من الثوب طولها 110m؟

9- اشترت سعاد 7 هلاليات ورغيفتين بالشكولاتة، إذا علمنا أن ثمن كل رغيف هو 3,8 DH

وأن صاحب المخبزة أخذ 50 DH وأرجع لسعاد 28,4DH.

- فما هو ثمن كل هلالية؟

الأب أو الولي	الإدارة	الملاحظة
		20

الاسم:
التاريخ:
الفوج:
المستوى: السادس ابتدائي
الفوج B

1- ضع و أنجز :

$$(247,8 + 5862,35) - (2010 + 584,77)$$

$$3,75 \times 7,4$$

2- احسب خارج القسمة التالية المقرب إلى 0,1

$$4523 \div 76$$

3- رتب الأعداد التالية ترتيبا تناقصيا

$$9,06 ; 9,0006 ; 9,6 ; 9,066 ; 9,0066$$

4- حول

$$5\text{km } 71\text{dam } 5\text{m} = \dots\dots\dots\text{dam}$$

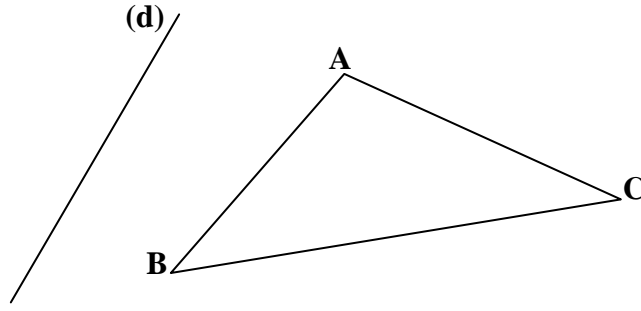
$$35,228\text{km} = \dots\dots\dots\text{m}$$

- أحسب المجموع التالي

$$64\text{km} + 36459\text{m} + 7\text{dam} = \dots\dots\dots\text{km}$$

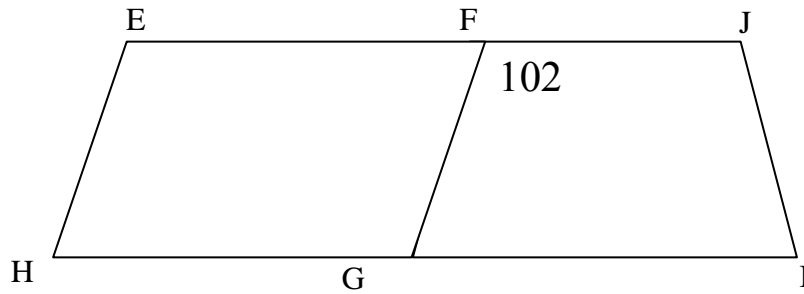
5- ضع مكان النقط الرقم المناسب. 8.53 ليكون العدد قابلا للقسمة على 2، 3، 5 و 9 في آن واحد

6- أنشئ مماثل للشكل بالنسبة للمستقيم (d).



2

7- لاحظ الشكل، ثم أحسب قياسات الزوايا التالية $EFG - F\hat{E}H - FJI$: مع تعليل الجواب.



2

8- يستخدم نجار 1,5m من الخشب لصنع كرسي واحد. كم من كرسي من نفس القياس يمكن لهذا النجار أن يصنع باستخدام قطعة خشبية طولها 75m؟

2

9- اشترى كريم 7 أقلام جافة وقلمي رصاص، إذا علمنا أن ثمن كل قلم الرصاص 3,8 درهم وأن صاحب المكتبة أخذ 100 درهم من كريم وأرجع له 78,4 درهم.

3

- فما هو ثمن كل قلم جاف؟