
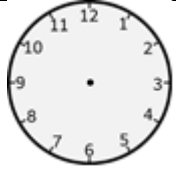
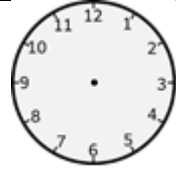
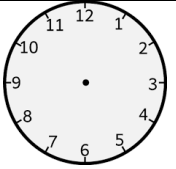


المؤسسة	م.م عين الشفاء	الموسم الدراسي	2016-2015
الاستاذ	إقبال أوعيسى	المستوى	الثالث
اسم المتعلم		المادة	الرياضيات
الإختبار الأول – الدورة الأولى			
		النقطة المحصل عليها	
		ملاحظات الأستاذ	



1 أتمم ملاً الجدول

العدد بالأرقام	العدد بالحروف	الوحدات	العشرات	المئات	تفكيك العدد
301
.....	9	5	2
.....	مئة و خمسة عشر
.....	$(6*100)+(8*10)+7$

2 أرسم عقربي كل ساعة كما تشير الساعة الرقمية :

			
19 :40	01 :25	15 :50	07 :30

3 أرسم عقربي كل ساعة و أكمل العبارات :

	بعد نصف ساعة	
ستشير الساعة إلى		تشير الساعة إلى التاسعة و 45 دقيقة

4 أقرن كل عددين بكتابة الرمز المناسب : < , > , =

138.....127	798.....812	$(3*100)+5$305	741.....841
921.....899	325.....300+25	123.....127	98.....101

5 أنفقت مريم 10 دراهم و بقي لديها 20 درهما .كم كان لدى مريم ?

.....

.....