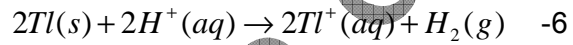
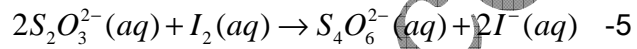
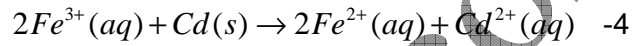
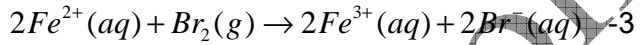
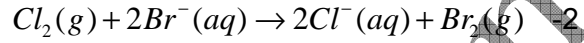
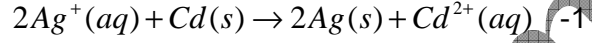


التمرين 5

www.pc-lycee.com

في كل من المعادلات التالية، حدد النوع الذي تمت أكسدته والذي تم اختزاله، النوع المؤكسد والنوع المختزل، واكتب نصف معادلة كل مزدوجة مشاركة:



Mohammed Sahli