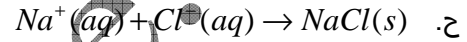
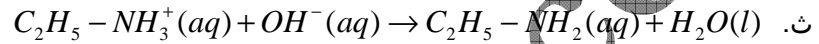
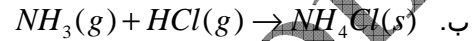
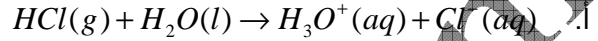


www.pc-lycee.com التمرين 03

1. من بين التفاعلات التالية ، حدد تلك التي تمثل تفاعل حمض-قاعدة :



2. حدد المتفاعل الذي يلعب دور الحمض والمتفاعل الذي يلعب دور القاعدة واسم كل منهما واكتب المزدوجتين

قاعدة/حمض في كل من التفاعلات حمض-قاعدة التالية :

