

Je teste mes connaissances : 10pts

Exercice I

1- Définir : 3pts

www.9alami.com

- Ménopause :
-
- Ovulation :
-
- Blastocyste :
-

Exercice II

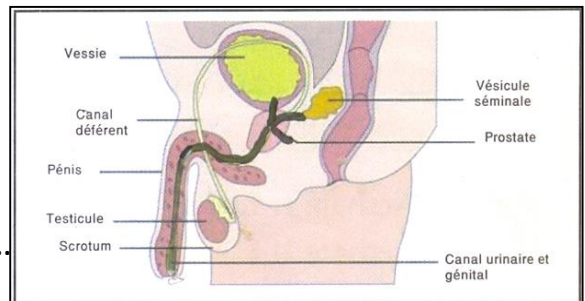
2- Indiquez pour chaque phrase si elle est juste ou fausse : 4pts

- Le « sang » des règles correspond à la paroi superficielle du vagin qui est éliminée.....
- Les cycles ovariens se déroulent depuis la puberté jusqu'à la mort.....
- Le placenta nourrit et apporte de l'oxygène au fœtus.....
- C'est pendant la période fœtale que les organes se forment.....

Exercice III

Le schéma ci-joint représente une coupe longitudinale de l'appareil génitale mâle : 3pts

- 1- Légender le schéma. 2pts
- 2- Déterminer le trajet des spermatozoïdes depuis leur production jusqu'à leur éjaculation. 1pt



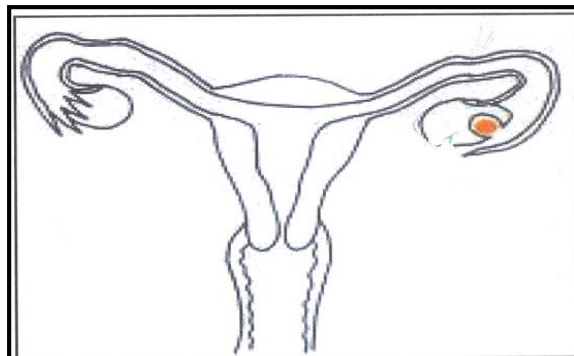
.....

.....




J'utilise mes connaissances : 10pts

Exercice I : 3pts

- Montrer sur le schéma le niveau d'action de chaque moyen de contraception cité ci-dessous :
- **Préservatif féminin.**
- **Spermicides.**
- **Pilules contraceptives.**
- **Stérilet.**
- **Implant contraceptif.**
- **Ligatures des trompes.**



Exercice II : 2pts

Souris témoins	On enlève les 2 ovaires	On enlève les 2 ovaires puis injection des hormones produites par l'ovaire
		
Développement normal cyclique de la muqueuse de l'utérus	Pas de développement normal cyclique de la muqueuse de l'utérus	Développement normal cyclique de la muqueuse de l'utérus

Expériences pour démontrer la relation entre ovaire et utérus.

➤ Montrer que l'activité cyclique de l'utérus est contrôlée par l'activité ovarienne.

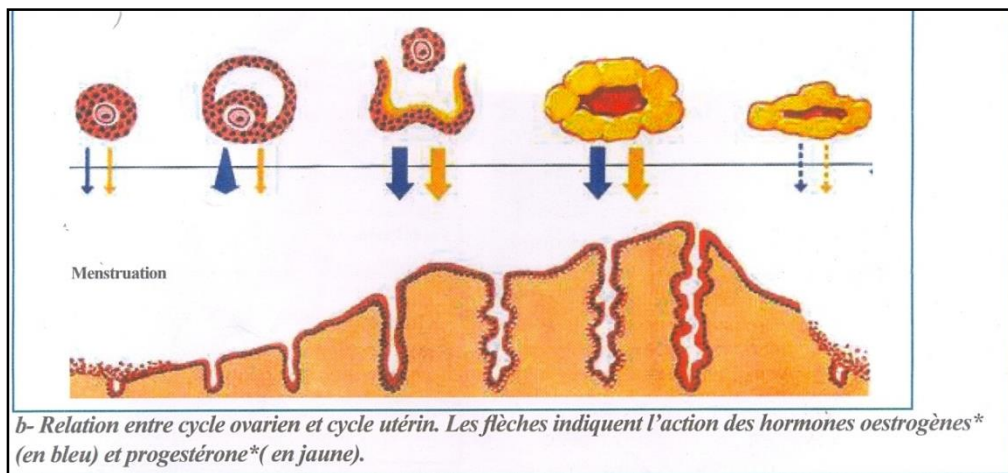
.....

.....

.....

.....

Exercice III : 5pts



1- Que représente la phase A ? 1pt

.....

2- Que représente la phase B ? 1pt

.....

3- Donner les variations présentes dans chaque phase . 1.5pt

.....

.....

4- Expliquer la relation entre le cycle ovarien et le cycle utérin. 1.5pt

.....

.....

.....