



إمضاء الوالي :

إمضاء الإدارة :

النقطة:

10

www.9alami.com

2 / أكتب بالأرقام :

1 / أملأ الجدول :



3 وحدات و 5 عشرات .



8 عشرات .



.....	20
.....	32
ستون	..
خمسة و ثمانون	..

2.5

3 / أملأ الفراغ بما يناسب :

$$50 + 3 = \dots\dots\dots$$

$$10 + 10 + 10 + 2 = \dots\dots\dots$$

$$30 + 10 = \dots\dots\dots$$

$$20 + \dots = 25$$

1

4 / أقرن باستعمال الرمز المناسب : < أو > أو =

1



$$12 \dots\dots 25$$

$$53 \dots\dots 35$$

$$78 \dots\dots 23$$

$$80 + 3 \dots\dots 83$$

5 / أرتب الأعداد التالية من الأصغر إلى الأكبر :

0.5

12 ; 7 ; 26 ; 58 ; 30

..... < < < <

6 / أنجز مايلي :

1

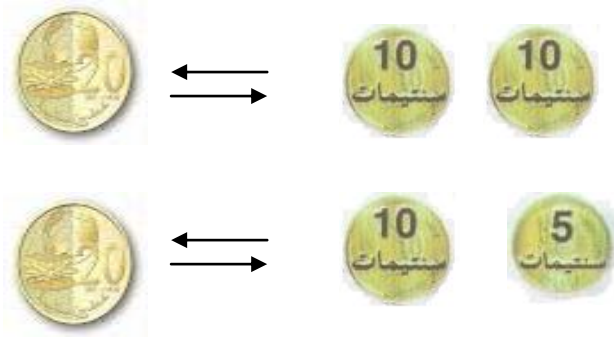
$$\begin{array}{r} 35 \\ + \\ 10 \\ \hline \end{array}$$

$$\begin{array}{r} 34 \\ + \\ 21 \\ \hline \end{array}$$

..


..

7 / أشطب المبادلة الخاطئة :




0.75

8 / أحسب المبلغ الذي يملكه كل طفل :

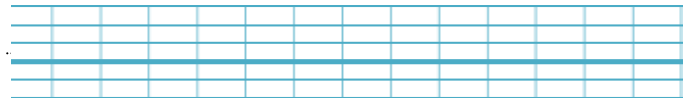


ياسين




علي

1.5



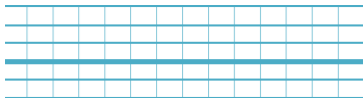
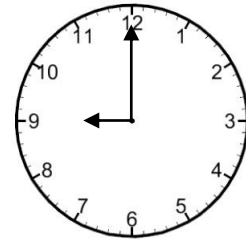
40 درهما




من يستطيع شراء اللعبة ؟

9 / أكتب التوقيت الذي تشير إليه كل ساعة :

3 : 00



10 / ألون المستطيلات :



0.75