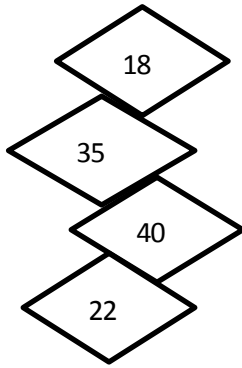


الاسم الشخصي والعائلي: التاريخ: الفوج:

إمضاء الأب أو الوالي	إمضاء الإدارة	النقطة
		/10



خمسة وثلاثون

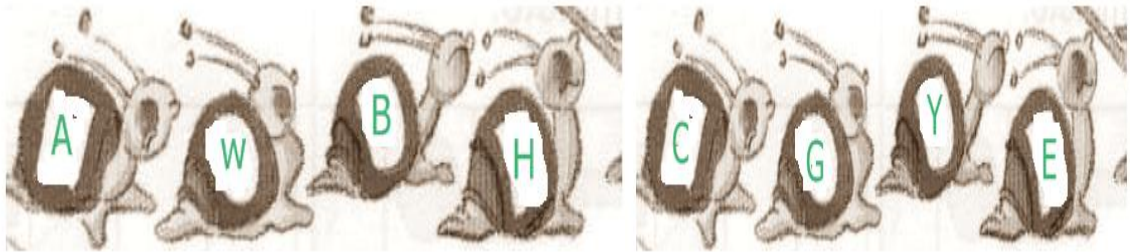
ثمانية عشر

اثنان وعشرون

أربعون

(1) أصل بخط (ن1):

(2) لاحظ جيدا ثم أتمم (ن1):



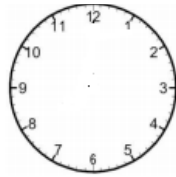
(ت) رمز الحزون الأخير:

(ج) رمز الحزون الأول:

(أ) رمز الحزون الثالث هو:

(ب) رمز الحزون السابع هو:

(4) أرسم عقارب الساعة وأكتبها بالأرقام (ن1):



الثالثة تماما.

(3) لاحظ ثم أتمم (ن1):



الساعة تشير إلى:

إنجاز: عادل بونوار

بِسْمِ اللَّهِ الرَّحْمَنِ الرَّحِيمِ

(6) أضع الرمز المناسب (ن1): $< ; > ; =$

$$17 \text{ } 12$$

$$10 + 4 \text{ } 10+8$$

$$10 + 10 + 6 \text{ } 20$$

$$10+10+10 \text{ } 30$$

(5) أتمم (ن2):

$$8 + 2 + 7 = \text{.....}$$

$$6 + \text{ } + 7 = 18$$

$$10 + 10 + 10 + 1 = \text{.....}$$

$$10 + 10 + \text{} = 26$$

(7) ألاحظ الشبكة ثم أملأ النقط A, B, C, D وأضع في الشبكة النقط E, F, G, H (ن2).

E (4 ; 2)

F (1 ; 7)

G (3 ; 4)

H (8 ; 6)

7									D
6									
5				A					
4									
3		C							
2							B		
1									
	1	2	3	4	5	6	7	8	9

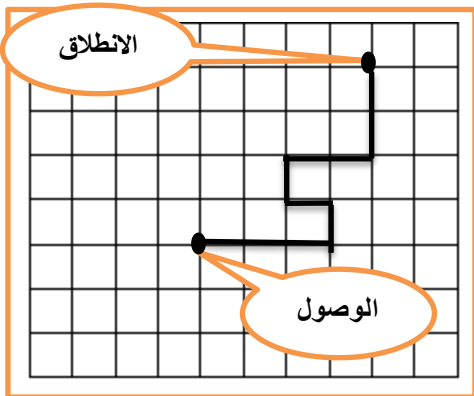
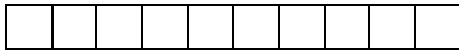
A (;)

B (;)

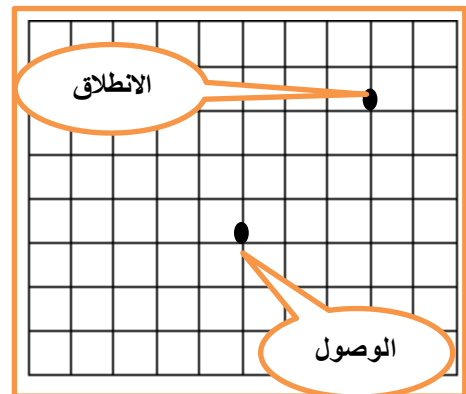
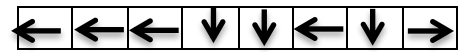
C (;)

D (;)

(9) أرسم القن الموافق للمسار (0,5):



(8) أرسم المسار الموافق للقن (0,5):



إنجاز: عادل بونوار