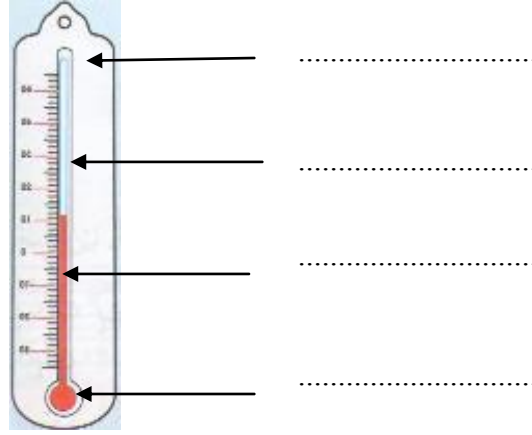
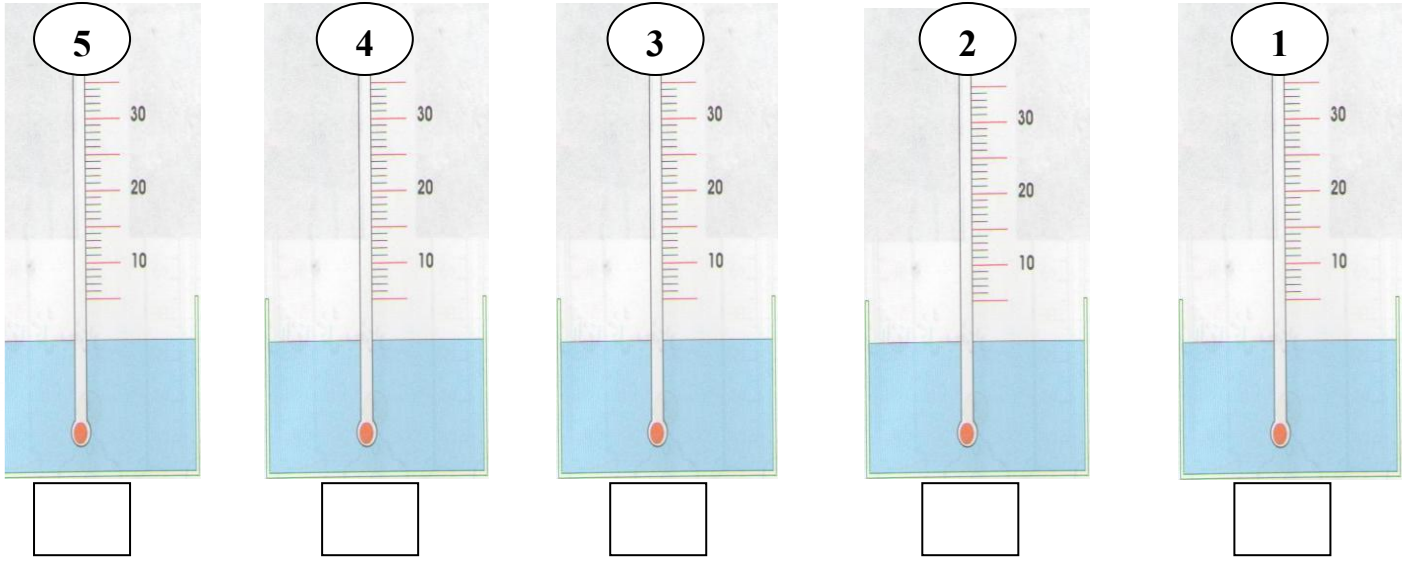


مراقبة مستمرة رقم 2 في النشاط العلمي اسمي:

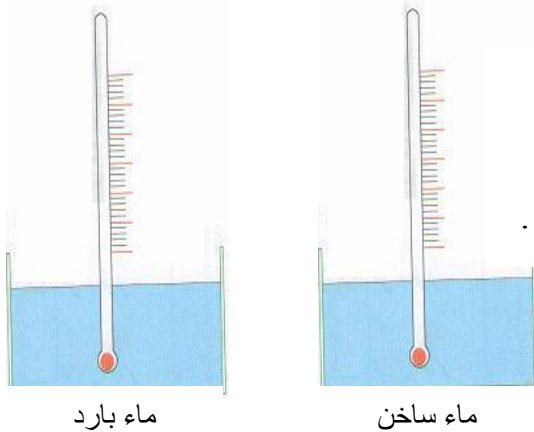
1. أكتب الاسم المناسب أمام كل سهم:



2. ألاحظ وأكتب درجة الحرارة التي يشير إليها كل محرار:



- أعلى درجة هي:
- رقم المحرار الذي يشير إلى أدنى درجة هو:
- أرتب درجات الحرارة من أعلى درجة إلى أدنى درجة:
- 3. وضعنا محرارين في إناءين مختلفين:



1. لون السائل المحراري في كل حالة.
 2. في أي حالة ينزل السائل المحراري؟
-

اسم الوالي وتوقعه:

