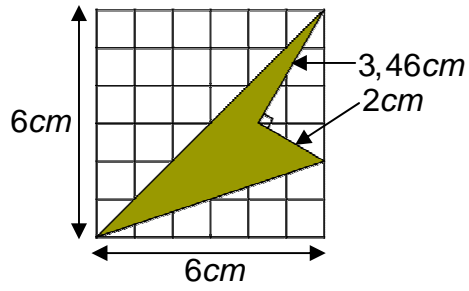
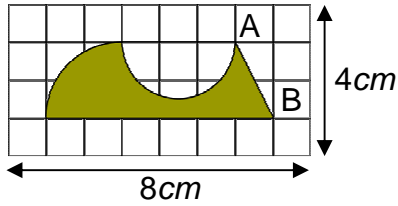


07



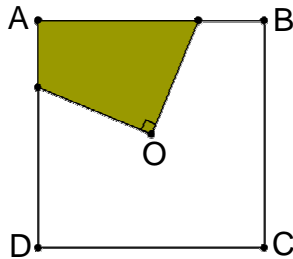
(1) أحسب مساحة الشكل الملون

08



$AB = 2,24cm$
 (1) أحسب محيط الشكل الملون
 (2) أحسب مساحة الشكل الملون

09



(1) أحسب مساحة الشكل الملون
 ABCD مربع مركزه O وضلعه $6cm$.