

مدرسة

المستوى السادس أساسي الاسم والنسب:.....
المراقبة 1 في مادة الاجتماعيات/الدورة الأولى
السنة الدراسية 2015/2014

تاريخ.

1. أقرأ النص وأجب عن الأسئلة:

«... لم يعد يستعمل إلا في مناطق قليلة من المغرب، وهو عبارة عن قطعة صوفية كبيرة تصل إلى خمسة أمتار تقريبا، تغطي الجسم كله وكذلك الوجه.»

أ - ما اسم اللباس الذي يتحدث عنه النص؟

ب - حدد نوع هذا اللباس : عصري أم تقليدي.

- ما هي العبارة التي تدل على صحة جوابك من النص؟

2. ما هي سلبيات المواصلات الحديثة؟

3. من أين يتلقى المسكن التقليدي ضوء النهار؟

4. أملأ الفراغ بالمصطلح المناسب:


-:مسكن يبني جزؤه المخروط من القصب والتبن أما الجزء

الدائري فيبنى من الطين أو القصب والتبن.

-: تطلق على مجموعة منتظمة من المسافرين الحاملين

لأمتعتهم وبضائعهم على الدواب.

5. بما تتميز وسائل النقل الحديثة؟



1 - ما معنى الطبوغرافيا؟

2 - ما هو المقياس الذي ستستعمله لوضع تصميم لمسجد حيكم؟

3 - أكتب " صحيح ة أم " خطأ"

- المقياس الكبير يساعد على تمثيل معطيات أكثر مما يتيح المقياس

الصغير. ←

- المقياس الكبير يقدم نظرة شمولية عن المجال ويعرف بخصائص


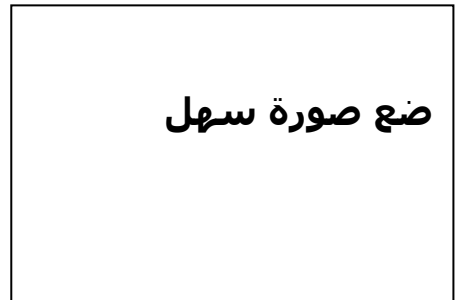
العامّة. ←

- المقياس الصغير يساعد على تمثيل معطيات أكثر مما يتيح المقياس

الصغير. ←

4 - أذكر أنواع الرموز المستعملة في التعبير الخرائطي؟

5 - أسمي الشكلين التضاريسيين الممثلين في الرسم وأعرف أحدهما.



1 - ما هو الحق؟

.....

.....

2 - أميز مما يلي الحق والواجب:

- العناية بالمناطق الخضراء - التطبيب - التعليم - إنجاز الواجبات المنزلية -
عدم رمي النفايات في الشارع.

..... - الواجب

..... - الحق:

3 - التعليم حق من الحقوق، فمن هم المستفيدون منه؟ ومن يضمه لهم؟

.....

.....

4 - ما هو الواجب؟

.....

.....

5 - إلى أي نوع من الواجبات ينتمي الواجب الذي تقوم به الممرضة؟

.....

