

## الفرض الكتابي رقم 2

### مادة التاريخ

اجب عن احد الموضوعين 9

#### الموضوع الأول

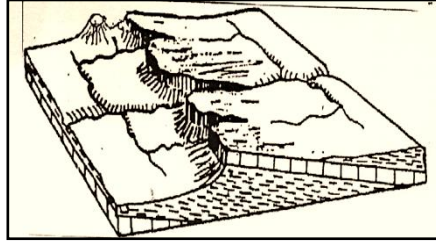
شهد القرن 16 بأوروبا الغربية ظهور الإصلاح الديني . في هذا الإطار اكتب مقالا تاريخيا توضح فيه الأسباب التي كانت وراء ذلك والنتائج التي خلفها.

#### الموضوع الثاني.

ساهمت الحركة الإنسية في ظهور الفكر الحداثي بأوروبا. وضح ذلك.

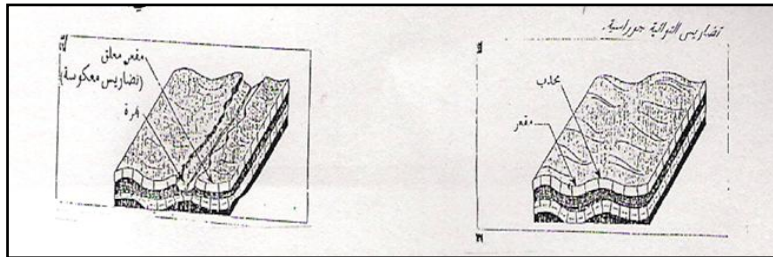
### مادة الجغرافيا

1 - حدد نوع الشكل التضاريسي وخصائصه البنيوية والمجاري المائية التي يتضمنها انطلاقا من الشكل أسفله. 2ن



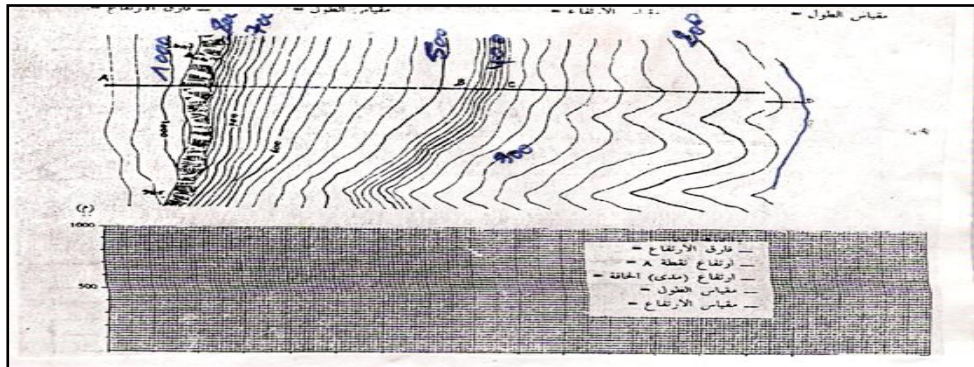
2ن

2 - حدد الفرق بين التضاريس المعكوسة والجوراسية انطلاقا من الشكل التالي.



3ن

3 - اتم رسم المقطع الطبوغرافي وحدد الهدف منه



4ن

4- حدد موضع وموقع مدينة تاوانات.

4ن

5- حدد الفرق بين الإحداثيات الجغرافية والإحداثيات الكارطوغرافية.

4ن

6- حدد خطوات التوطن الجغرافي.