

سلسلة تمارين حول ثنائي القطب RC

التمرين الأول :

1) نضع قاطع التيار الكهربائي في الموضع (1) عند اللحظة $t=0$

(أ) ما الهدف من هذا التركيب ؟

(ب) ما إشارة شحنة كل من اللبوسين A و B ؟

2) نؤرجح قاطع التيار إلى الموضع (2).

1-2 (أ) ارسم الدارة الموافقة ممثلاً للتوتر بين مربطى كل ثنائي قطب .

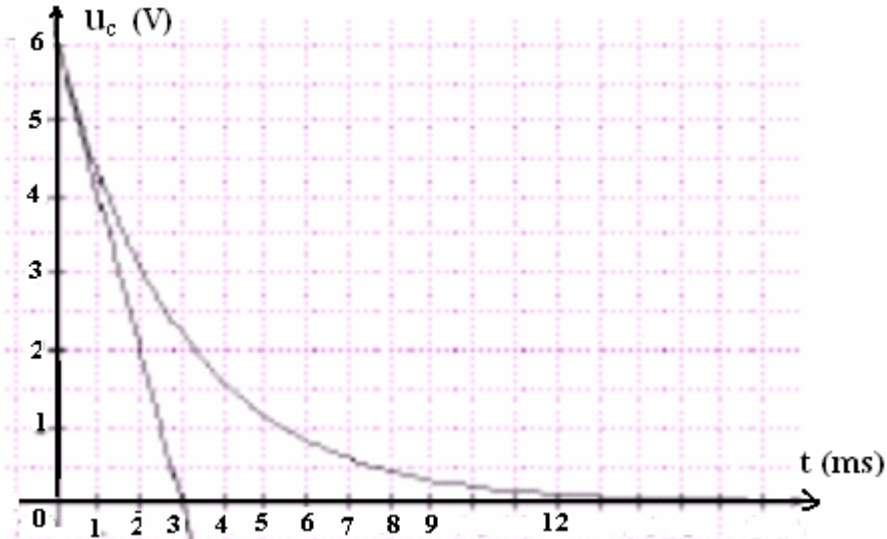
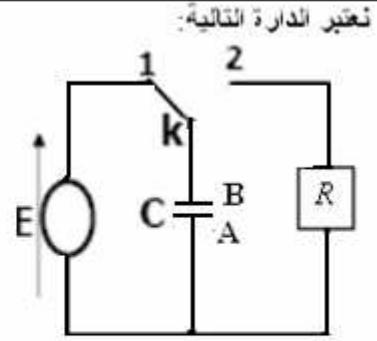
(ب) بين أن : $u_R = RC \frac{du_C}{dt}$

(ج) أوجد المعادلة التفاضلية التي يحققها التوتر بين مربطى المكثف .

(د) علماً أن حل المعادلة التفاضلية المحصل عليها يكتب كما يلي : $u_C = Ae^{-Kt} + B$

حدد كل من K، B و A، ثم استنتج تعبير التوتر بين مربطى المكثف بدلالة الزمن .

2-2 نعطي المتحنى الذي يمثل تغيرات التوتر بين مربطى المكثف بدلالة الزمن .



(أ) عرف ثابتة الزمن لثنائي القطب RC .

(ب) حدد مبيانيا قيمة ثابتة الزمن .

(د) علماً أن مقاومة الموصل الأومي $R = 12K\Omega$ ، استنتج قيمة سعة المكثف المستعمل .

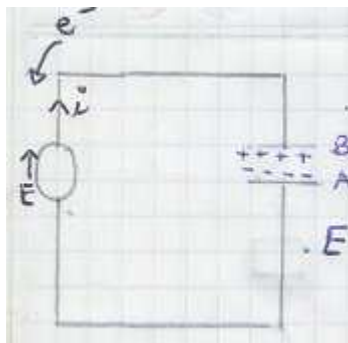
تصحيح:

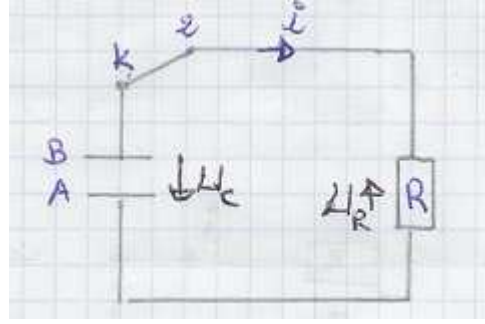
1- أ- الهدف من هذا التركيب : شحن المكثف.

ب- تحديد إشارة كل من اللبوسين.

نعلم أن في اصطلاح المولد E و i لهما نفس المنحى.

عند وضع قاطع التيار في الموضع 1 ونظراً لوجود العازل الاستقطابي بين لبوسي المكثف ، فإن المولد يجذب الإلكترونات من اللبوس B ويدفعها نحو اللبوس A. وبذلك يفقد اللبوس B الإلكترونات وتصبح شحنته موجبة بينما يكتسب اللبوس A الإلكترونات وتصبح شحنته سالبة.





ب-

$$u_R = R i = R \cdot \frac{dq}{dt} = R \frac{d(c u_c)}{dt} = R c \frac{du_c}{dt}$$

ج- بتطبيق قانون إضافية التوترات في الدارة السابقة ، لدينا :

$$u_R = R c \frac{du_c}{dt} \quad \text{ولدينا} \quad u_R + u_c = 0$$

$$R c \frac{du_c}{dt} + u_c = 0 \quad \text{إذن :}$$

أي : $\tau \frac{du_c}{dt} + u_c = 0$ وهي المعادلة التفاضلية التي يحققها التوتر بين مربطي المكثف . مع : $\tau = R c$

د- لنحدد كل من الثوابت A ، B و K علما أن حل المعادلة التفاضلية يكتب كما يلي :

$$u_c = A e^{-K t} + B \quad \text{إذن :}$$

$$\frac{du_c}{dt} = -K A e^{-K t}$$

$$\tau(-K A e^{-K t}) + A e^{-K t} + B = 0 \quad \text{المعادلة التفاضلية تصبح كما يلي :}$$

$$A e^{-K t} (1 - \tau K) = -B \quad \Leftrightarrow \quad A e^{-K t} (1 - \tau K) + B = 0$$

يجب أن يكون معامل $e^{-K t}$ منعدما : $1 - \tau K = 0$ وبذلك تصبح : $B = 0$ و : $K = \frac{1}{\tau}$

وبالتالي الحل يصبح كما يلي :

بما أن المكثف يخضع لرتبة نازلة للتوتر فإنه : عند اللحظة $t = 0$ ، $u_c = E$ ،

نعوض في $u_c = A e^{-\frac{t}{\tau}}$ التي تصبح عند $t = 0$: $E = A e^0$ وبما أن : $e^0 = 1$ هذه النتيجة تكتب كما يلي : $E = A$

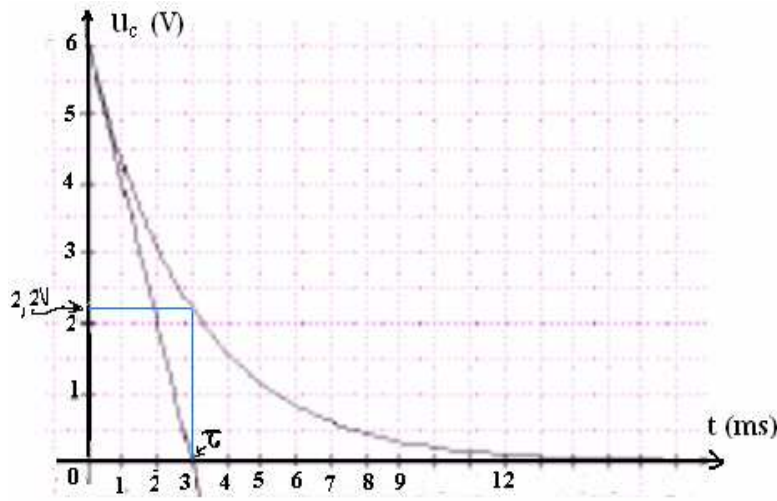
وبذلك نكون قد حددنا قيم الثوابت فنحصل على الحل :

$$u_c = E \cdot e^{-\frac{t}{\tau}}$$

2-2

أ- نسمي ثابتة الزمن لثنائي القطب RC والتي نرمز إليها ب : τ المقدار $\tau = RC$ ووحدتها في النظام العالمي للوحدات هي : الثانية (s).

ب- مبيانيا ثابتة الزمن τ توافق نقطة تقاطع المماس للمنحنى $u_c = f(t)$ مع محور الزمن . انظر الشكل.



جد : $\tau = 3ms = 3.10^{-3}s$

د- الطريقة الأولى: $\tau = RC$ ومنه $C = \frac{\tau}{R}$

مع : $\tau = 3.10^{-3}s$ و : $C = \frac{\tau}{R} = \frac{3.10^{-3}}{12.10^3} = 0,25.10^{-6}F = 0,25\mu F \Leftarrow R = 12k\Omega = 12.10^3\Omega$

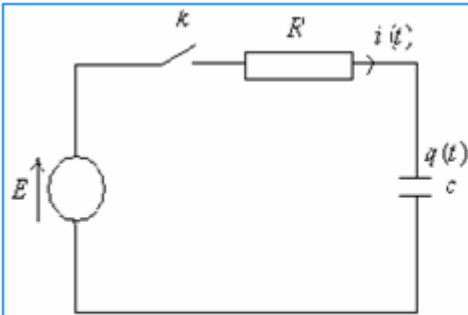
الطريقة الثانية:

عند اللحظة $t = \tau$ لدينا :

$$u_c = E \cdot e^{-\frac{t}{\tau}} = E e^{-1} = 0,37E = 0,37.(6V) = 2,2V$$

إذن التوتر $u_c = 2,2V$ يوافق مبيانيا اللحظة $t = \tau$ فنحصل من خلال المبيان على القيمة $\tau = 3ms$. انظر الشكل السابق.

التمرين الثاني : تصحيح التمرين رقم 5 ص : 118 الكتاب المدرسي - المسار-



نركب في الدارة الكهربائية جانبه مكثفًا غير مشحون

ثم نغلق قاطع التيار k عند اللحظة $t = 0$

1- أوجد المعادلة التفاضلية التي تعبر عن تغيرات شحنة المكثف بدلالة الزمن.

2- حل المعادلة التفاضلية يكتب كما يلي: $q(t) = A e^{-\frac{t}{\tau}} + B$

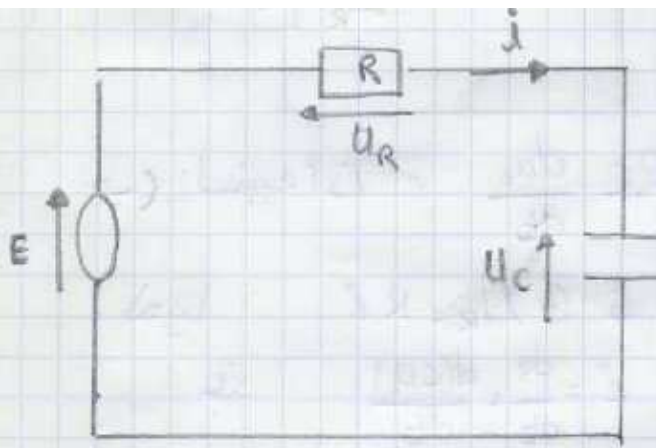
حيث : $\tau = RC$ ثابتة الزمن و A و B ثابتتان.

أ) عندما $t \rightarrow +\infty$ يمكن اعتبار الدارة في النظام الدائم.

ما شحنة المكثف $q(\infty)$ في هذه الحالة؟ استنتج قيمة الثابتة B .

ب) باستعمال الشروط البدئية، حدد قيمة الثابتة A ، واستنتج تعبير $q(t)$.

التصحيح :



لدينا حسب قانون إضافات التوتيرات

$$\textcircled{1} U_R + U_C = E$$

وحسب قانون أوم: $U_R = R \cdot i$

$$i = \frac{dq}{dt} \quad \text{مع}$$

$$U_R = R i = R \cdot \frac{dq}{dt} \quad \text{إذن}$$

$$R \cdot \frac{dq}{dt} + U_C = E \quad \textcircled{2} \quad \text{تصبح}$$

$$U_C = \frac{q}{C} \quad \text{إذن} \quad q = C \cdot U_C$$

وبالتالي العلاقة $\textcircled{2}$ تصبح:

$$R \cdot \frac{dq}{dt} + \frac{q}{C} = E$$

وهي المعادلة التفاضلية التي تحقها شحنة المكثف.

بما أن حل المعادلة التفاضلية هو:

$$q = A e^{-t/\tau} + B \quad \textcircled{1}$$

الدائرة في النظام الدائم أي $U_C = E$ ومع $q = U_C \cdot C$ فإن $q = E \cdot C$

لدينا $t \rightarrow +\infty \Rightarrow q \rightarrow 0$

وبالتعويض في $\textcircled{1}$ $t \rightarrow +\infty \Rightarrow q = C E$

$$C E = A e^{-\infty} + B$$

$$C E = 0 + B \Rightarrow B = C E$$

$$q = A e^{-t/\tau} + C E$$

بإذن العلاقة $\textcircled{1}$ تصبح $\textcircled{2}$

$\textcircled{2}$

من خلال الشروط البدئية:

وبما أن المكثف خضع لرتبة صاعدة للتوتير.

$$\text{لدينا: } t=0 \Leftrightarrow U_C=0 \Leftrightarrow q=C \cdot U_C=0$$

و بالتعويض في ④

$$0 = Ae^0 + CE$$

$$0 = A + CE$$

$$\Rightarrow A = -CE.$$

و بالتالي حل المعادلة التفاضلية التي توصلنا إليها للتيارة العكسفة

$$q = -CE e^{-t/\tau} + CE. \quad \text{تكتب كما يلي:}$$

$$q = CE (1 - e^{-t/\tau})$$

والله ولي التوفيق.

Abdelkrim SBIRO

(Pour toutes observations contactez mon email)

mail : sbiabdou@yahoo.fr

msn : sbiabdou@hotmail.fr

Site : www.9alami.com